

Geschichte

Zentrale Eckdaten der Geschichte sollte jeder kennen oder zumindest richtig ein- bzw. zuordnen können. Testen Sie Ihr geschichtliches Wissen, indem Sie die folgenden Aufgaben bearbeiten.

Aufgabe 1 (Altertum)

1. In welcher Zeitepoche entstanden erste **dörfliche Ansiedlungen**?
2. Welches wesentliche Entwicklungsstadium zeichnet eine **Hochkultur** aus?
3. Wann und wo entstanden die ersten Hochkulturen?



Aufgabe 2 (Griechische Antike)

1. **333 v. Chr.** ist ein bedeutendes Datum der griechischen Antike. **Alexander der Große** kann in diesem Jahr einen entscheidenden militärischen Erfolg erringen.
 - a) Wer (welches Reich) wird besiegt?
 - b) Wo findet diese berühmte Schlacht statt?
2. Warum zerfällt das Reich „Alexander des Großen“ in die **Diadochenreiche** (Was sind Diadochen?)



Aufgabe 3 (Römische Antike)

1. Bis **27 v. Chr.** ist Rom (das römische Reich) eine **Republik**.
 - a) Wer bildet die oberste **Staatsgewalt** in dieser Republik?
 - b) In welche **Staatsform** wechselt Rom (das römische Reich) nach diesem Datum?
2. Welche bedeutenden Erfolge werden **Gaius Iulius Caesar** zugesprochen?
3. Welcher Zusammenhang besteht zwischen **Oktavian** und **Augustus**?



Aufgabe 4 (Fragen an die englische Geschichte)



1. Wann wird England von den **Normannen** erobert?
Wie heißt dieser Eroberer?
2. Welcher Monarch gründet die „**Anglikanische Kirche**“?
Warum?
3. Wer ist „**Oliver Cromwell**“?
Was hat er begründet?
4. Unter welcher Königin gelangt England zum Höhepunkt an Macht und Ausdehnung?

Aufgabe 5 (Fragen an die französische Geschichte)






1. Wer ist „**Jeanne d'Arc**“?
Und was ist ihr Verdienst?
2. Welchen Beinamen hatte der König „**Ludwig XIV**“?
Welches bedeutende Bauwerk ließ er errichten bzw. erheblich erweitern?
3. Wann war die „**französische Revolution**“?
4. Welcher Feldzug wurde für „**Napoleon Bonaparte**“ zum Desaster?

Deutsche Geschichte

Aufgabe 6 (Namen der deutschen Geschichte)

Bringen Sie die Namen der folgenden Personen aus der deutschen Geschichte in die richtige zeitliche Reihenfolge:

1. Robert Blom
2. Wilhelm I
3. Otto I
4. Adolf Hitler
5. Friedrich Barbarossa
6. Otto von Bismarck
7. Heinrich IV
8. Martin Luther
9. Karl der Große
10. Wilhelm II
11. Friedrich der Große
(Spitzname: Der alte Fritz)
12. Wallenstein



Ordnen Sie die Namen
den Bildern zu

Aufgabe 7 (Ereignisse der deutschen Geschichte)

Bringen Sie die folgenden Ereignisse aus der deutschen Geschichte in die richtige Reihenfolge:

1. 30-jähriger Krieg
2. zweiter Weltkrieg
3. Gründung des deutschen Reiches
4. westfälischer Frieden
5. Attentat von Sarajevo
6. Weimarer Republik
7. Machtergreifung NSDAP
8. Prager Fenstersturz
9. erster Weltkrieg
10. Wiener Kongress
11. Märzrevolution
12. Reformation
13. Gang nach Canossa
14. Teilung des Frankenreichs



Aufgabe 8 (Zuordnungen)

Welche Namen (Aufgabe 6) gehören zu welchen Ereignissen (Aufgabe 7).

Welche Ereignisse gehören untrennbar zusammen? (z.B. als Ursache von, etc.)